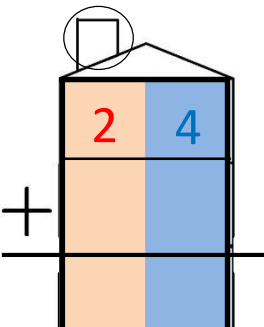
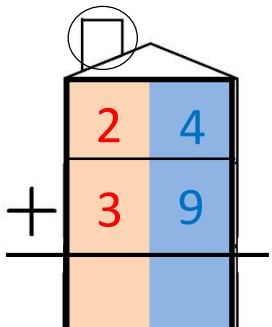
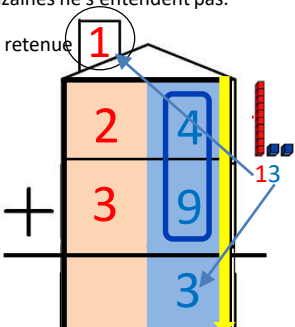
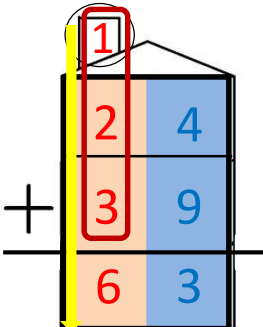


Mon immeuble pour apprendre à poser des additions en colonnes

Pour additionner deux nombres, par exemple $24 + 39 =$

<p>❶ J'écris le nombre 24 dans l'appartement du haut avec un seul chiffre par pièce.</p> 	<p>❷ J'écris le nombre 39 dans l'appartement du dessous avec un seul chiffre par pièce.</p> 	<p>❸ Les chiffres 4 et 9 prennent l'ascenseur des unités, ils vont faire la fête à la cave, ils s'additionnent : $4 + 9 = 13$. J'écris le 3 en bas de l'ascenseur et le 1 dans la cheminée comme les unités et les dizaines ne s'entendent pas.</p> 	<p>❹ Les chiffres 1 (la retenue), 2 et 3 prennent l'ascenseur des dizaines, ils s'additionnent : $1 + 2 + 3 = 6$. J'écris le 6 en bas de l'ascenseur. Le résultat est $24 + 39 = 63$</p> 
--	---	---	--

À toi de jouer

$$28 + 14 = \dots$$



<https://huit.re/CPlacon14a>



<https://huit.re/CPlacon14b>

