

Mardi 12 mai 2020- CP

RITUEL À METTRE EN PLACE CHAQUE JOUR AVANT LA MISE AU TRAVAIL

Calendrier du mois de mai: barrer les jours passés, faire dire à votre enfant quel jour nous étions hier, quel jour nous serons demain et quel jour nous sommes aujourd'hui.

Lecture fluence sur le son EU

1. Phonologie : son /EU/

Classe virtuelle en petit groupe avec Cécilia. À l'heure indiquée pour ton groupe il faudra aller sur le lien :

<https://eu.bbcollab.com/guest/27a3a728f6e342f88ce779cf533a6a1a>

Groupe 1 à **14h00** : **Mélina, Lucie, Owen, Thomas, Emma**

Groupe 2 à **14h20** : **Izia, Maxence, Anael, Apolline, Anna**

Groupe 3 à **14h40** : **MarionClara, Timéo, Candice, Delwennhig**

Groupe 4 à **15h00** : **Meven, Lola, Éléonore, Maéline, Gabin**

2. Exercices sur le son EU

- Un adulte me lit la comptine du son EU à coller dans le cahier bleu et je trouve deux images à découper où j'entends EU comme dans « feu » ou /oeu/ comme dans coeur.

- Exercices en ligne :

Exercice 1 : https://www.clicmaclasse.fr/activites/sons/eu/son_eu_ex03.html

Exercice 2 : https://www.clicmaclasse.fr/activites/sons/eu/son_eu_ex05.html

3. Écriture

Ensuite, tu peux reprendre le travail sur ton **cahier d'écriture**.

J'ai marqué **M** sur la page **6**


Tu peux compléter la date au stylo rouge : **Mardi 12 mai**

Complète ensuite, les lignes d'écriture en t'appliquant.

4. Mathématiques

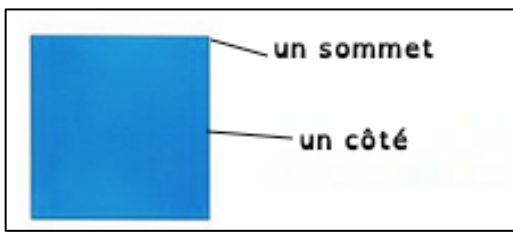
Activités ritualisées

1. Donne les noms des figures suivantes :



- Montre un côté du rectangle.
- Montre un sommet du triangle.
- Combien de sommets le carré possède-t-il ?
- Combien de côtés le triangle possède-t-il ?

Rappel :



2. Sur du papier quadrillé (cahier ou à imprimer disponible sur le site) :

- Colorier des cases pour faire un carré qui contient au moins 5 carrés.
- Colorier des cases pour faire un rectangle qui contient au moins 6 carrés.

Voir correction à la fin de ce document.

Calcul mental

3. Donne les doubles des nombres suivants :

5

6

4

3

8

Correction :

5 + 5 = 10 donc le double de 5 est égal à 10

6 + 6 = 12 donc le double de 6 est 12

4 + 4 = 8 donc le double de 4 est 8

3 + 3 = 6 donc le double de 3 est 6

8 + 8 = 16 donc le double de 8 est 16

4. Lis avec un adulte la **leçon 13** dans ton mini-fichier leçons.

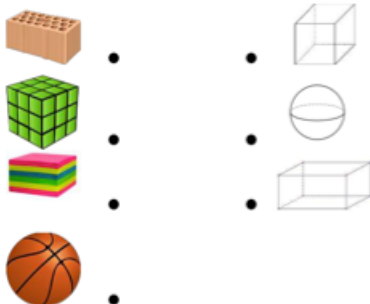
5. Faire la fiche d'exercices sur les solides (dossier photocopies).

Exercices

1/ Complète avec "cube" ou "pavé"



2/ Relie les objets au solide qui leur ressemble :



6. Fais un ou 2 exercices sur ton **mini-fichier Horodateur**


6. Lecture- Le hérisson

Lecture de la fiche : **Le hérisson** (dossier photocopies).

Planète Z-99 en vue !

Le hérisson

- **Description**
Sur son dos, le hérisson a des piquants (1000). Il mesure de 15 à 25 cm. Son poids est d'environ 1 kg.
- **Alimentation**
Il mange des vers de terre, des limaces, des insectes, des souris...
- **Particularité**
Il nettoie les jardins des limaces et des insectes indésirables...
- **Reproduction**
La femelle met au monde 2 à 10 petits qu'elle nourrit pendant quarante jours.



• **Habitat**
Il habite sous un tas de feuilles mortes ou de branches.
Le hérisson est un animal nocturne qui vit dans les bois, les jardins ou les champs...

1) Quel est le titre de ce documentaire ?

2) Sépare les mots et réécris la phrase.

Le hérisson est un animal nocturne.

1) Lire à nouveau le texte « Le hérisson » (proposé avec aide en téléchargement sur le site)

9) Répondre aux questions 1, 2 et 3 de la deuxième page après la lecture du texte du hérisson (dossier photocopies).

Planète Z-99 en vue !

1

Remets les mots dans l'ordre pour faire une phrase.

mortes. - un tas de - s'abrite - il - sous -
- feuilles -



2

Vrai ou faux ?

Le hérisson mange de vers de terre, des limaces, des insectes...

Le hérisson habite dans une cabane en haut des arbres.

Le hérisson peut mesurer environ 20 cm.

Le hérisson pèse environ 100 kg.

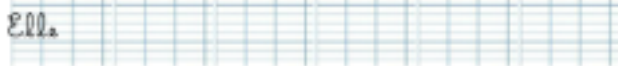
Le hérisson est un animal nocturne.

3

Réponds à la question par une phrase complète.

- À combien de petits la femelle donne-t-elle naissance ?

Elle



6. Proposition – vocabulaire en anglais

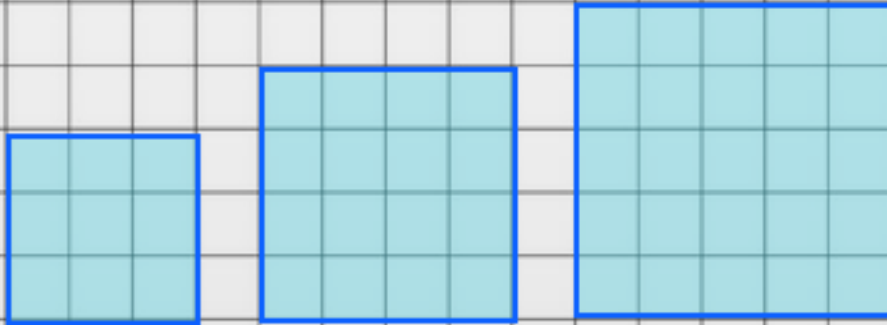
→ Aujourd'hui je te propose de continuer à t'entraîner à lire les mots du vocabulaire des parties du corps. Redécouvre la fiche de vocabulaire des parties du corps : Body parts (**dossier photocopies**). Si besoin, tu peux écouter à nouveau l'enregistrement disponible sur le site de l'école.

Exercice en ligne pour entraînement à la lecture des mots :

<https://learningapps.org/3221981>

Correction Maths

Exemples de carrés avec au moins 5 petits carrés



Exemples de rectangles avec au moins 6 petits carrés

